



Prepíš si do zošita:

Lydickej stupnica – je durová stupnica, ktorá má zvýšený 4. stupeň (kvartu)

Lydickej stupnicu od daného tónu vytvoríme tak, že zapíšeme najprv durovú stupnicu od daného tónu a následne zvýšime – pomocou krížika, alebo odrážky (u béčkových stupníc) 4. tón stupnicu.

Lydickej od C 

Lydickej od G 

príklad notového zápisu piesne v lydickej tónine

Všetko vodienka 


Mierne Kysuce



Vypočuj si skladbu v lydickej tónine od slovenského skladateľa.

https://www.youtube.com/watch?v=FCWPB_R5rW8&ab_channel=Cucor%C3%89va


Vytvor lydickej stupnicu z durovej stupnice E dur.



Ku ktorým stupniciam patria molové kvintakordy?



Doplň sextakord a kvartsextakord C dur a G dur.



Doplň názov durovej stupnice podľa predznamenania.




____ dur ____ dur ____ dur ____ dur ____ dur


14. Zakrúžkujte názvy nôt, ktoré sú správne.

f⁴ c⁴ a³ fis³ b³ g³ es³ h³ g⁴ e⁴ fis³ d³ es³ a³ cis³ e³

11. Uvedené tóny zapíšte v celých rytmických hodnotách od najnižšieho po najvyšší:
c, A, fis, Es, g, e¹, Cis, des, ais.



Spoj čiarou intervaly a ich názvy.



- c¹ - e¹
TERCIA
- c¹ - c¹
PRIMA
- c¹ - a¹
SEXTA
- c¹ - d¹
SEKUNDA
- c¹ - h¹
SEPTIMA
- c¹ - f¹
KVARTA
- c¹ - c²
OKTÁVA
- c¹ - g¹
KVINTA